



Лист 1 – Задания

Дата проведения: 8 декабря 2016 года

Возрастная группа: Детский сад

Время проведения: 30 минут

Конкурсное задание состоит из 15 вопросов.

Количество верных ответов один!

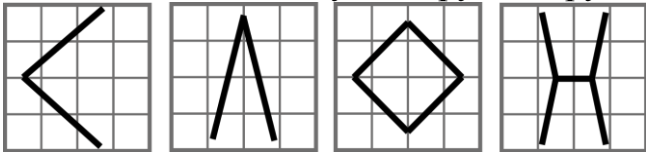


ФИ участника

ФИО учителя

I дистанция

1. На листочке в клетку Мартышка написала слово СЛОН. Линии каждой буквы проходят через несколько клеточек. Сколько клеточек из 16 останутся пустыми (без линий), если наложить все буквы друг на друга?



- (1) 26 (2) 16
(3) 8 (4) 4

2. Каждое утро на завтрак Слонёнок ест блинчики или вафли с вареньем или сгущённым молоком. Какое наибольшее количество дней подряд он может есть разные завтраки, не повторяясь?

- (1) 2 (2) 3 (3) 4 (4) 5

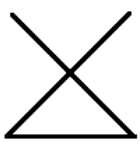
3. Готовясь к празднику, Слоник украсил поляну гирляндой. Сначала он прикрепил гирлянду к пальме, потом протянул её к фонтану, потом к фонарю, после этого закрепил на своём доме, потом снова к фонтану и конец привязал к памятнику Жирафу. Какая схема отобразит гирлянду?



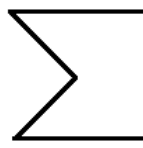
(1)



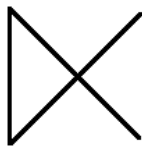
(2)



(3)



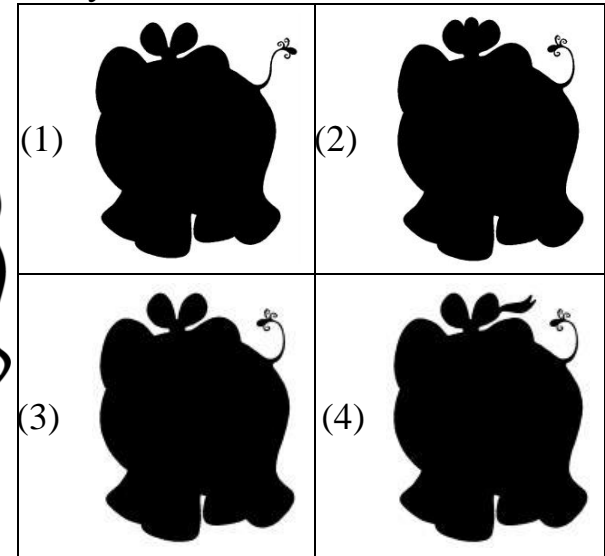
(4)



4. Слоник и его друзья (Черепашка, Мартышка, Попугай) измеряли рост. Известно, что Мартышка не самая высокая, Попугай выше Черепашки, но ниже Мартышки. Кто самый низкий?


- (1) Слоник (2) Попугай (3) Мартышка (4) Черепашка

5. Каждый вечер Слоник отправляется гулять. Какая тень принадлежит Слоника?



II дистанция

6. Мартышка делает гирлянду из фруктов, одновременно надевает по два одинаковых фрукта с обоих концов. Вот как выглядит левая половина гирлянды. Какой фрукт будет в гирлянде четвертый справа?



- (1) банан (2) ананас (3) апельсин (4) кокос



7. Пятна Жирафа и Леопарда перемешались. Все пятна Жирафа треугольные, а Леопарда – четырёхугольные. На сколько пятен у Жирафа больше, чем у Леопарда (пересечения пятен не считать)?

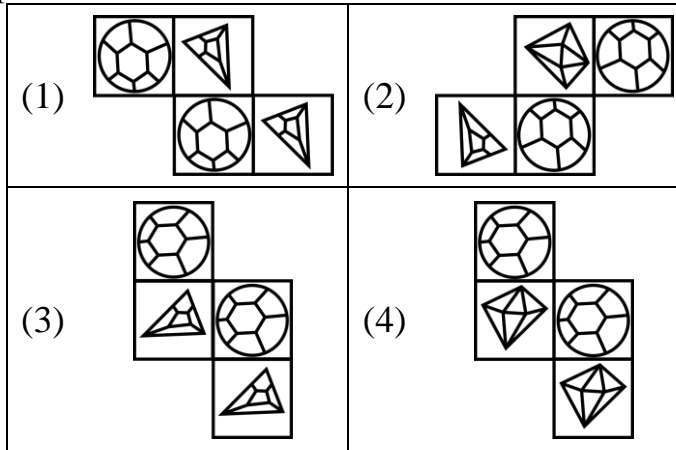
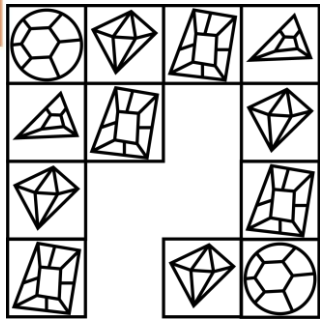
- (1) ни на сколько (2) на 1 пятно
(3) на 2 пятна (4) на 3 пятна



2 км

8. У Мартышки есть любимое зеркало, крышка которого украшена необычным узором. Какой кусочек отпал от крышки зеркала Мартышки?

3 км



9. Мартышка придумала свой секретный алфавит, в котором все буквы заменила на картинки.

3 км

Вот как она написала слово МОРЕ:

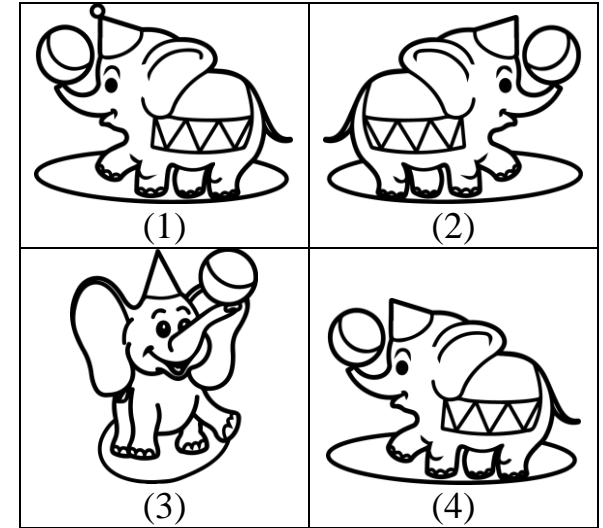


Как она может написать слово СЛОН?

(1)	✓ + ☁ ✕	(2)	✉ 🌐 ☁ 🌐
(3)	🌐 ✕ + ☁	(4)	🌐 ✕ ☁ +

10. Слоник готовился к первому выступлению в цирке, и его друзья Попугай, Мартышка и Жираф решили нарисовать его портрет на память. Какой портрет получился у Мартышки?

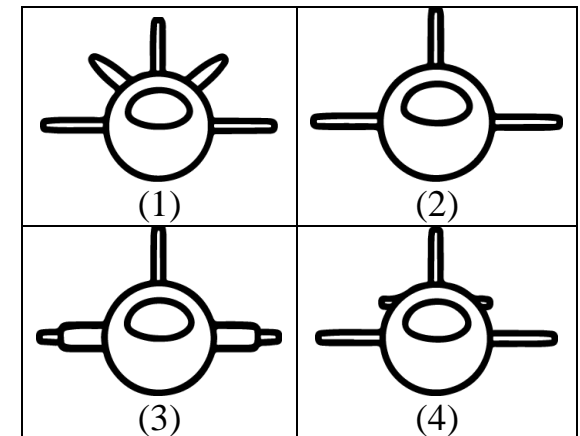
3 км



III дистанция

11. Любимая игрушка Попугая – самолёт. Вот она перед тобой на рисунке. Как будет выглядеть самолёт, если посмотреть на него спереди?

3 км





12. Гуляя по джунглям, Слоник заметил, что если он поворачивает направо, то встречает три пальмы, а если налево – 2. Сколько пальм встретились Слоннику на пути? Путь Слоника указан на рисунке.

- (1) 16 (2) 13 (3) 10 (4) 5

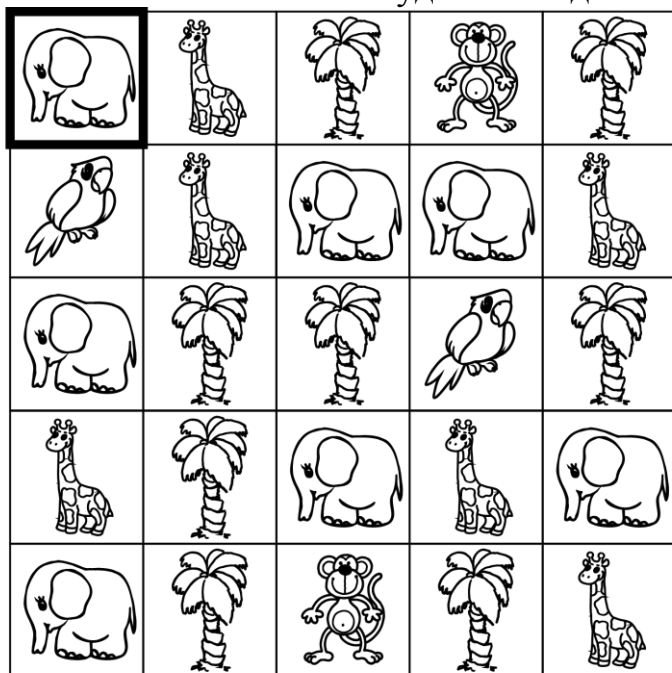


13. Перед тобой лабиринт, который нужно проходить в



следующем порядке:

Начало в верхней левой клетке. Можно ходить в лабиринте только на соседнюю клетку, в любом направлении, кроме диагонали. Какая клетка будет выходом из лабиринта?



1

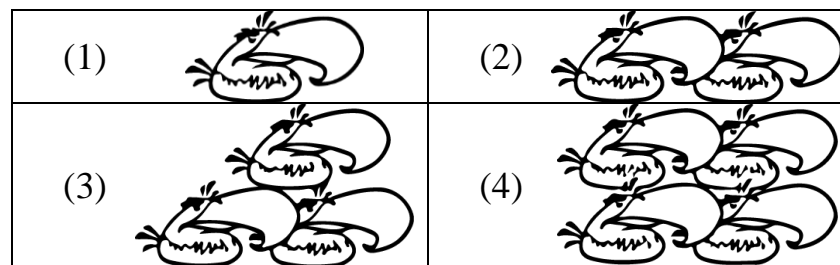

2

4

3

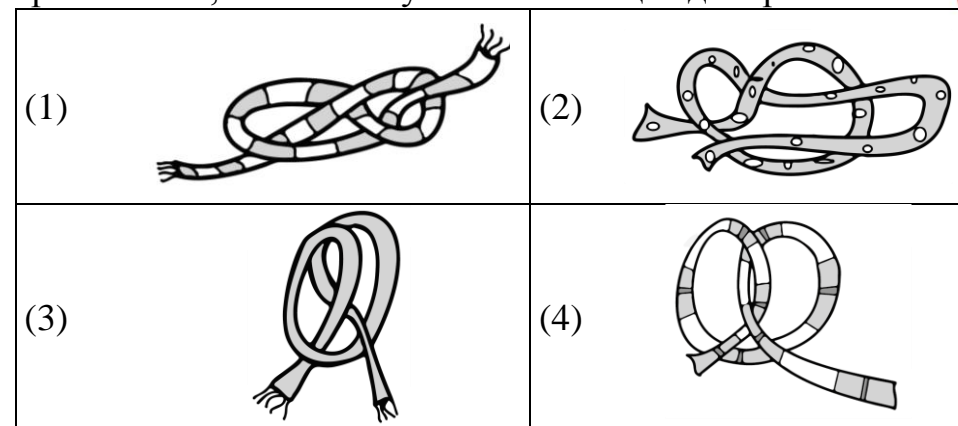
5 км

14. Какое число птиц с клювом нужно поставить вместо знака вопроса? Выбери правильный вариант ответа.



4 км

15. У Жирафа очень длинная шея, поэтому он любит шарфики. Как-то раз на джунгли налетел ураган и запутал шарфики Жирафа, которые сушились на солнышке. Какой шарфик развяжется, если потянуть за оба конца одновременно?



3 км

ФИНИШ