



Лист 1 – Задания

Дата проведения: 5 декабря 2019 года

Возрастная группа: Детский сад

Время проведения: 30 минут

Конкурсное задание состоит из 15 вопросов.


Количество верных ответов один!

ФИ участника	
ФИО воспитателя	

I дистанция

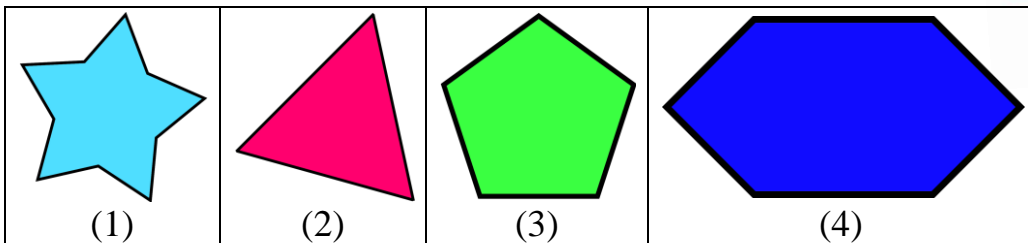


1. С помощью какой инструкции Слонёнок найдёт домик Мартышки? Стрелка обозначает шаг на соседнюю клетку в заданном направлении.



↑ ← ←	← ← ↑ → ↑ →	↑ → ↑ ← ←	↑ ← ↓ ← ↑ ↑
(1)	(2)	(3)	(4)

2. Мартышка очень любит сладкое, поэтому Слонёнок подарил ей набор фигурных конфет. У какой конфеты больше всего углов?



3. На поляне среди джунглей друзья играли в прятки: Попугай встал за пальмой, Слонёнок спрятался в зарослях бананов, а Мартышка – на спине Слонёнка. Сколько лап стояло на земле?



- (1) 2 (2) 3 (3) 6 (4) 8

4. Расставь предметы по величине от большого до маленького, как есть на самом деле. Что оказалось на третьем месте?



5. На рисунке Слонёнка смешались разные времена года. Какого времени года не хватает?



- (1) зимы
(2) весны
(3) лета
(4) осени



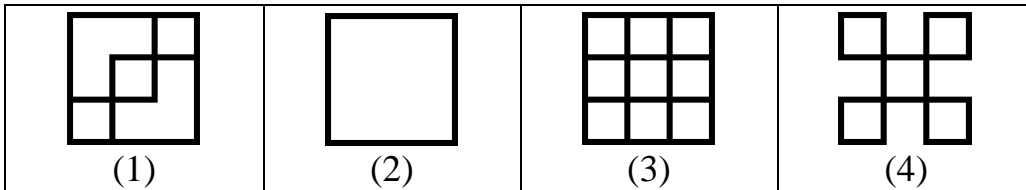
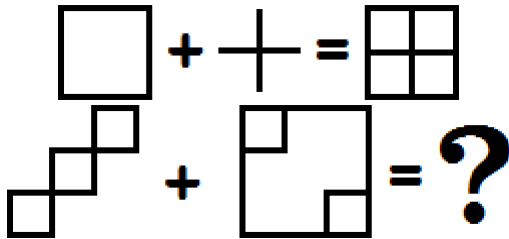
II дистанция

6. В настоящей школе для зверят Слонёнку задали заполнить таблицу с днями недели. Какой день будет послезавтра, если вчера была пятница?


- (1) понедельник (2) среда
(3) четверг (4) воскресенье



7. В джунглях на конкурсе по математике в одном задании нужно было решить сложный пример. Это получилось только у Слонёнка. Попробуй и ты.



8. Помоги Попугаю посчитать, сколько фруктов он собрал.



- (1) 8
(2) 11
(3) 14
(4) 19




9. Решили друзья измерить рост Жирафа и выяснили, что рост Жирафа равен 16 Попугаям, или 6 Мартышкам, или 2 Слоням. Какой рост Слонёнка в Попугаях?

- (1) 3 (2) 8 (3) 20 (4) 22



10. Слонёнок складывал рисунки из ниточек так, что в самом верху всегда лежала жёлтая ниточка, под ней – зелёная, а под зелёной – голубая. Каким цветом будет ниточка, которой нарисовано левое крыло бабочки?

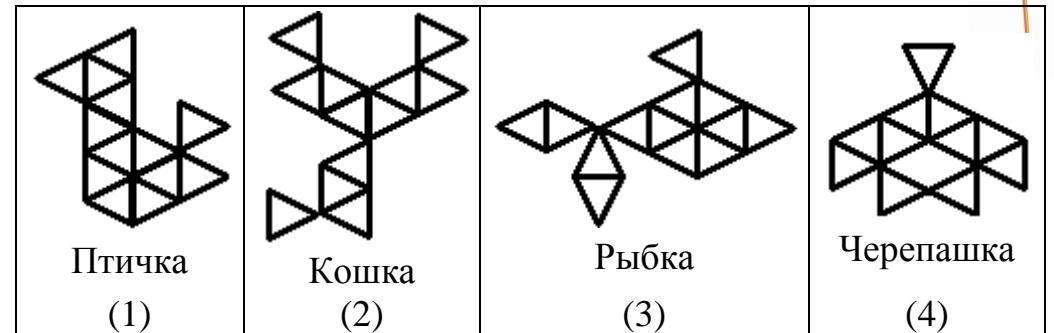


- (1) жёлтая
(2) красная
(3) зелёная
(4) голубая




III дистанция

11. У Мартышки есть любимый конструктор, все детали которого – это одинаковые треугольники. Для какой фигурки ей понадобилось меньше всего деталей?





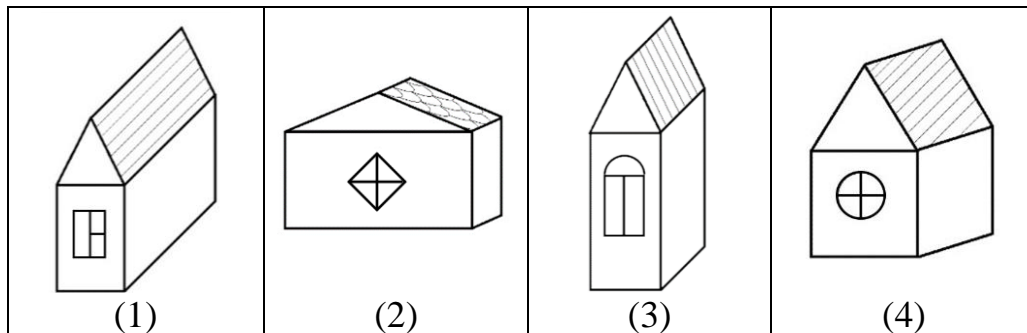
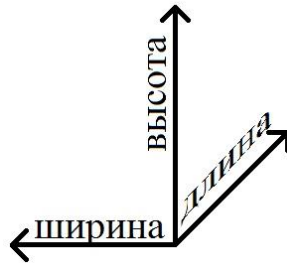
12. На одну полку у Мартышки влезает три банки. Слева от вишнёвого варенья Мартышка решила поставить сливовый компот, справа от яблочного варенья и над вишнёвым – солёные помидоры. На полку с пустой банкой – банановое варенье. Куда Мартышка поставит грушевое повидло?



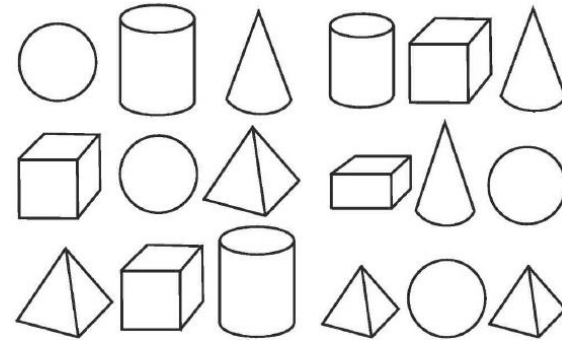
- 3 км
- (1) 1
(2) 2
(3) 3
(4) 4

13. Ширина домика Слонёнка больше высоты, а его длина – меньше высоты. Выбери домик Слонёнка на рисунке.

4 км



14. Мартышка раскрашивала конструктор красками, чтобы показать его своим друзьям. Все фигуры над пирамидами она раскрасила красным цветом, а под конусами – жёлтым. Сколько оранжевых фигур оказалось у Мартышки?



- (1) 0 (2) 1 (3) 4 (4) 6

15. Слонёнок наблюдал за Мартышкой и заметил, что:

- если Мартышка съела банан, то через 5 минут она сделает сальто;
- если Мартышка помахала руками, то через 5 минут она попрыгает;
- если Мартышка сделал сальто, то через 5 минут она помашет руками;
- если Мартышка попрыгала, то через 5 минут она съест банан.

5 км

Сейчас Мартышка съела банан, что она сделает через полчаса?

- (1) съест банан (2) сделает сальто
(3) попрыгает (4) помашет руками

финиш